

광명 N제.

맑은 N제

킬러 편
미적분팩

송지은 지음

미적분

교재 활용법

문항 배열 : 단원별 난이도순

단원별로 구별되어 있고, 한 단원 내에서 번호가 올라갈수록 난이도가 높아지도록 구성되어 있습니다. 너무 어렵다면 다른 단원을 풀고 다시 돌아와서 도전해보시기 바랍니다.

해설 : 교과서와 맑은개념을 기반으로 서술

이 책의 해설지는 교과서와 맑은개념을 기반으로 서술되어 있습니다. 맑은개념을 읽지 않았더라도 이 책의 대부분의 해설을 이해할 수 있습니다. 하지만 세세한 발상들은 맑은개념이나 맑은기출에서 다루었던 내용에서 근거했을 수 있습니다. 킬러편을 공부하는 학생이라면 맑은개념과 기출을 비교적 단시간 내에 빠르게 학습할 수 있으므로, 교과서와 기출에 근거하여 발상을 재정립해보고 싶다면 맑은개념-맑은기출 시리즈 학습을 권장합니다.

해설을 대하는 자세와 피드백 방법

문제를 맞고 틀림에 관계없이 해설지와 비교하며 시야를 넓힐 수 있습니다. 맞았더라도 자신의 풀이에 보완해야 할 점이 있을 수도 있고, 자신과 다른 풀이를 배울 수도 있습니다. 틀렸다면 막힌 부분을 어떻게 해결하는지 배울 수 있습니다.

한편 해설지에 여러 풀이가 제공되어 있을 경우, 뒤에 나오는 풀이의 발상 난이도가 더 높습니다. 앞에 나오는 풀이로 풀었다면 뒤에 나오는 풀이를 통해 다양한 발상을 익히고, 뒤에 나오는 풀이로 풀었다면 앞에 나오는 풀이를 자신이 구사할 수 있는지 확인해보며 역량을 끌어올릴 수 있습니다.

교재 후기 : 전태원(미적분 백분위 100)

저는 일격필살 팀의 인투더 중학도형/ 인투더 수학1&2/ 인투더 미적분/ 트윈기출(2022수능대비) 수1, 수2, 미적분/ 일격필살 N제 시즌1 수1&수2, 미적/ 일격필살 N제 시즌2 수1&수2&미적/ 일격필살 파이널 모의고사를 풀었습니다. 통합 이후 존재한 일격필살 팀의 모든 콘텐츠를 풀었다고 할 수 있겠네요. 그 결과 2023 대학 수학 능력 평가에서 미적분 백분위 100을 받을 수 있었습니다. 지금부터 제가 도움 받은 부분과 일격필살 팀의 콘텐츠가 좋았던 점들을 짚어보려고 합니다.

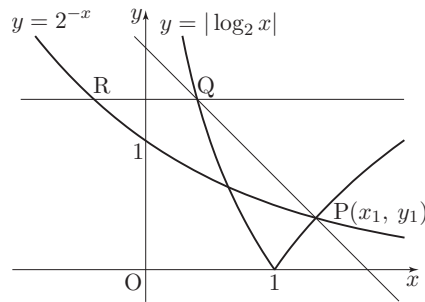
수학 실력을 키우기 위해서 소위 양치기라고 불리는 문제 푸는 양을 늘리는 것이 중요하다고 생각합니다. 하지만 어떤 문제든 마구잡이로 푸는 것이 아니라 좋은 문제들을 많이 풀어야 합니다. 일격 필살 팀의 문제들을 한 단어로 표현하면 '새롭다' 였던 것 같습니다. 다른 콘텐츠를 풀다 보면 기출에서 본 듯한, 기출과 유사한, 그런 문항들이 많았습니다. 또한 무리한 사고 과정을 요구하거나 고등 교육 과정을 벗어난 그런 문제들도 가끔씩 있었습니다. 일격 필살 팀의 문제들은 낯설었습니다. 생소했고 드물었습니다. 수능에는 한 번 나온 문제는 두 번 다시는 나오지 않는다는 것은 모두가 아는 상식입니다. 그런 상식에 걸맞은 참신한 문제들을 풀면서 앞으로의 수능에 나올 새로운 문제들을 예상하고 대비할 수 있었습니다.

1.1

수학 I : 지수와 로그 (문제)

01

좌표평면에서 두 곡선 $y = |\log_2 x|$, $y = 2^{-x}$ 의 교점 $P(x_1, y_1)$ ($x_1 > 1$)에 대하여 점 P를 지나고 기울기가 -1 인 직선이 곡선 $y = |\log_2 x|$ 와 만나는 두 점 중에서 P가 아닌 점을 Q라 하고, 점 Q를 지나고 x 축에 평행한 직선이 곡선 $y = 2^{-x}$ 와 만나는 점을 R라 할 때, 다음 설명 중 옳은 것만을 <보기>에서 있는 대로 고른 것은? (단, O는 원점이다.) [4점]



보기

ㄱ. 점 Q는 곡선 $y = 2^x$ 위에 있다.

ㄴ. $\overline{OP} = \overline{OQ} = \overline{OR}$

ㄷ. $\tan(\angle QPR) > \frac{1}{2x_1}$

① ㄱ

② ㄱ, ㄴ

③ ㄱ, ㄷ

④ ㄴ, ㄷ

⑤ ㄱ, ㄴ, ㄷ

25

상수 a 에 대하여 함수 $f(x) = |x - a| - 3$ 이 있다. 함수 $f(x)$ 와 최고차항의 계수가 양수인 삼차함수 $g(x)$ 가 다음 조건을 만족시킨다.

(가) 함수 $|g(x)|$ 가 $x = k$ 에서 미분가능하지 않은 k 의 개수는 3이고, 모든 k 의 값의 합은 6이다.

(나) 함수 $(|f(x)| + n) \times (|g(x)| + n)$ 이 $x = k$ 에서 미분가능하지 않은 k 의 개수는 $n + 1$ 이다. ($n = 0, 1$)

$g(3a) = \frac{q}{p}$ 일 때, $p + q$ 의 값을 구하시오. (단, p 와 q 는 서로소인 자연수이다.) [4점]

41

실수 전체의 집합에서 연속인 함수 $f(x)$ 와 삼차함수 $g(x)$ 가 $g(0) = 0$ 이고, $x \neq -2$ 인 모든 실수 x 에 대하여

$$\int_a^x f(t)dt = \left| \frac{|x+2|}{x+2} e^x + g(x) \right| \quad (\text{단, } a > -2)$$

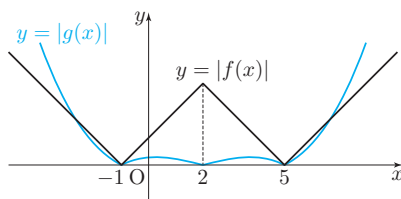
를 만족시킨다. $f(a+1) = p + qe^{-1}$ 일 때, $p+q$ 의 값을 구하시오. (단, p 와 q 는 유리수이다.) [4점]

25

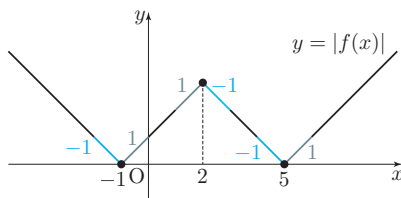
(가) 조건에서 $g(x)$ 가 삼차함수이므로, $|g(x)|$ 가 미분가능하지 않은 모든 x 에서 $g(x) = 0$ 입니다. 즉 방정식 $g(x) = 0$ 은 서로 다른 세 실근을 갖고, 모든 실근의 합은 6입니다.

(나)에서 $h_n(x) = (|f(x)| + n) \times (|g(x)| + n)$ 이라 하고, n 의 값에 따라 해석해 보겠습니다.

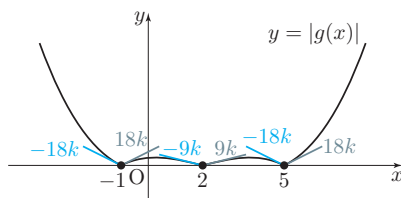
- ① $n = 0$ 인 경우, 함수 $h_0(x) = |f(x)| \times |g(x)|$ 가 미분가능하지 않은 점의 개수는 1입니다. 그런데 (가)에 의해 $|g(x)|$ 가 미분가능하지 않은 점의 개수가 3이고, $|f(x)|$ 가 미분가능하지 않은 점의 개수도 3이므로, 방정식 $g(x) = 0$ 의 모든 실근은 $|f(x)|$ 가 미분가능하지 않은 x 와 같습니다. ⁽⁷⁾



$f(x) = 0$ 인 x 는 $x = a - 3$, $x = a + 3$ 이고 $f(x)$ 는 $x = a$ 에서 미분가능하지 않으므로, $|f(x)|$ 가 미분가능하지 않은 모든 x 는 $a - 3$, a , $a + 3$ 입니다. 즉 방정식 $g(x) = 0$ 의 세 실근도 각각 $a - 3$, a , $a + 3$ 입니다. 그런데 모든 실근의 합이 6이므로 $a = 2$ 입니다. 따라서 $g(x) = k(x + 1)(x - 2)(x - 5)$ 라 할 수 있습니다.



이 경우 함수 $h_0(x) = |f(x)| \times |g(x)|$ 의 미분가능성을 따져 보겠습니다. $(|f|)'(-1)$ 의 좌극한은 -1 , 우극한은 1 이고, $(|f|)'(2)$ 의 좌극한은 1 , 우극한은 -1 이며, $(|f|)'(5)$ 의 좌극한은 -1 , 우극한은 1 입니다. ⁽⁸⁾



한편 $g'(x) = k(3x^2 - 12x + 3)$ 이므로 $g'(1) = 18k$, $g'(2) = -9k$, $g'(5) = 18k$ 입니다. 즉 $(|g|)'(-1)$ 의 좌극한은 $-18k$, 우극한은 $18k$ 이고, $(|g|)'(2)$ 의 좌극한은 $-9k$, 우극한은 $9k$ 이며, $(|g|)'(5)$ 의 좌극한은 $-18k$, 우극한은 $18k$ 입니다.

⁽⁷⁾ $|f(x)|$ 가 미분가능하지 않은 x 와 $|g(x)|$ 가 미분가능하지 않은 x 가 일치하지 않는다고 가정하면, $h_0(x)$ 가 미분가능하지 않은 점의 개수는 최소 2개이므로 (나) 조건을 만족시키지 않습니다. 이는 $g(x)$ 가 함숫값이 0이면서 미분계수도 0인 점이 없기 때문에 성립하는 것입니다.

⁽⁸⁾ 여기에서 $(|f|)'(a)$ 의 좌극한은 $\lim_{h \rightarrow 0^-} \frac{|f(a+h)| - |f(a)|}{h}$, $(|f|)'(a)$ 의 우극한은 $\lim_{h \rightarrow 0^+} \frac{|f(a+h)| - |f(a)|}{h}$ 를 의미합니다. 일명 좌미분계수, 우미분계수라 불리는 것들입니다.

$h'_0(x) = |f(x)|' \times |g(x)| + |f(x)| \times |g(x)|'$ 입니다. 따라서 $h'_0(-1)$, $h'_0(2)$, $h'_0(5)$ 의 좌극한과 우극한을 구하면 다음과 같습니다.

$$(h'_0(-1)\text{의 좌극한}) = (-1) \times 0 + 0 \times (-18k) = 0$$

$$(h'_0(-1)\text{의 우극한}) = (1) \times 0 + 0 \times (18k) = 0$$

$$(h'_0(2)\text{의 좌극한}) = (1) \times 0 + 3 \times (-9k) = -27k$$

$$(h'_0(2)\text{의 우극한}) = (-1) \times 0 + 3 \times (9k) = 27k$$

$$(h'_0(5)\text{의 좌극한}) = (-1) \times 0 + 0 \times (-18k) = 0$$

$$(h'_0(5)\text{의 우극한}) = (1) \times 0 + 0 \times (18k) = 0$$

따라서 $h_0(x)$ 는 $x = 2$ 에서만 미분가능하지 않습니다. 즉 (나)에서 $n = 0$ 일 때 조건이 성립합니다.

② $n = 1$ 일 때 함수 $h_1(x) = (|f(x)| + 1) \times (|g(x)| + 1)$ 이 미분가능하지 않은 점의 개수는 2입니다.

$h'_1(x) = |f(x)|' \times (|g(x)| + 1) + (|f(x)| + 1) \times |g(x)|'$ 이므로 $h'_1(-1)$, $h'_1(2)$, $h'_1(5)$ 의 좌극한과 우극한을 구하면 다음과 같습니다.

$$(h'_1(-1)\text{의 좌극한}) = (-1) \times 1 + 1 \times (-18k) = -1 - 18k$$

$$(h'_1(-1)\text{의 우극한}) = (1) \times 0 + 1 \times (18k) = 1 + 18k$$

$$(h'_1(2)\text{의 좌극한}) = (1) \times 1 + 4 \times (-9k) = 1 - 36k$$

$$(h'_1(2)\text{의 우극한}) = (-1) \times 1 + 4 \times (9k) = -1 + 36k$$

$$(h'_1(5)\text{의 좌극한}) = (-1) \times 1 + 1 \times (-18k) = -1 - 18k$$

$$(h'_1(5)\text{의 우극한}) = (1) \times 1 + 1 \times (18k) = 1 + 18k$$

k 의 값이 양수이므로 $h'_1(-1)$ 의 좌극한과 우극한, $h'_1(5)$ 의 좌극한과 우극한이 각각 같아질 수 없습니다. 즉 $h_1(x)$ 가 두 점에서 미분가능하지 않다는 조건을 만족시키지 않습니다. 한편 $h'_1(2)$ 의 좌극한과 우극한이 같도록 하는 k 는 $k = \frac{1}{36}$ 이 존재합니다. 이때 $h_1(x)$ 가 $x = 2$ 에서만 미분가능하고, $x = -1$ 과 $x = 5$ 에서는 미분가능하지 않으므로 (나) 조건을 만족시킵니다.

따라서 $g(x) = \frac{1}{36}(x+1)(x-2)(x-5)$ 이고 $g(3a) = g(6) = \frac{7}{9}$ 이므로 $p+q = 16$ 입니다.

정답 : 16

41

$x = -2$ 를 기준으로 주어진 식의 우변을 계산하면 다음과 같습니다.

$$\int_a^x f(t)dt = \begin{cases} |-e^x + g(x)| & (x < -2) \\ |e^x + g(x)| & (x \geq -2) \end{cases}$$

$f(x)$ 가 연속함수이므로 $\int_a^x f(t)dt$ 는 미분가능합니다. 즉 $\int_a^x f(t)dt$ 의 $x = -2$ 에서의 미분가능성을 조사하겠습니다.

(1) 연속성 조건

$\int_a^x f(t)dt$ 가 $x = -2$ 에서 연속이므로 $|-e^{-2} + g(-2)| = |e^{-2} + g(-2)|$ 입니다. 즉

$-e^{-2} + g(-2) = e^{-2} + g(-2)$ 또는 $-e^{-2} + g(-2) = -\{e^{-2} + g(-2)\}$ 입니다. 전자의 경우는 모순되고 후자의 경우 $g(-2) = 0$ 인 경우 성립할 수 있습니다. 따라서 $g(-2) = 0$ 입니다.

(2) 미분가능성 조건

$\int_a^x f(t)dt$ 가 $x = -2$ 에서 미분가능하므로 두 함수 $|-e^x + g(x)|$, $|e^x + g(x)|$ 의 $x = -2$ 에서의 미분계수는 서로 같습니다. 한편 $g(-2) = 0$ 이므로 -2 보다 약간 작은 실수 x 에 대하여 $|-e^x + g(x)| = e^x - g(x)$ 이고, -2 보다 약간 큰 실수 x 에 대하여 $|e^x + g(x)| = e^x + g(x)$ 입니다. 한편 각각을 미분하면 $e^x - g'(x)$, $e^x + g'(x)$ 이므로 $e^{-2} - g'(-2) = e^{-2} + g'(-2)$ 에서 $g'(-2) = 0$ 을 얻습니다.

따라서 $g(0) = 0$, $g(-2) = g'(-2) = 0$ 이므로 $g(x) = kx(x+2)^2$ 이라 할 수 있습니다.

$\int_a^x f(t)dt$ 는 $x = a$ 에서 함숫값이 0이고 $a > -2$ 이므로 $|e^a + g(a)| = 0$ 입니다. 또한 $\int_a^x f(t)dt$ 는 $x = a$ 에서 미분가능하므로 $e^a + g'(a) = 0$ 입니다. 따라서 $e^a = -g(a)$, $e^a = -g'(a)$ 이므로 $g(a) = g'(a)$ 가 성립합니다. 즉 $ka(a+2)^2 = k(3a^2 + 8a + 4)$ 이고, $a > -2$ 이므로 $a = -1$ 또는 $a = 2$ 입니다.

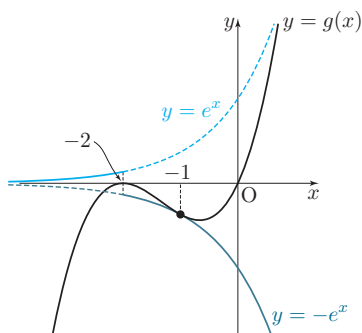
앞에서 $x = -2$ 에서의 미분가능성만 살펴보았으므로, 각각의 경우 $x < -2$, $x > -2$ 에서 두 절댓값함수가 미분가능한지 확인해보겠습니다.

(다음 페이지에 계속)

- ① $a = -1$ 인 경우 $k = \frac{1}{e}$ 이고 다음이 성립합니다.

$$\int_a^x f(t)dt = \begin{cases} \left| -e^x + \frac{1}{e}x(x+2)^2 \right| & (x < -2) \\ \left| e^x + \frac{1}{e}x(x+2)^2 \right| & (x \geq -2) \end{cases}$$

$g(x) = \frac{1}{e}x(x+2)^2$ 의 그래프와 두 곡선 $y = e^x$, $y = e^{-x}$ 를 그리면 다음과 같습니다.

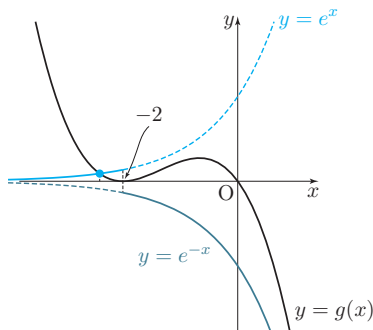


$g(x)$ 가 최고차항의 계수가 양수인 삼차함수이므로 $x < -2$ 에서 $g(x) < 0$ 입니다. 즉 곡선 $y = e^x$ 와 $x < -2$ 에서 만나지 않고, $x > -2$ 에서 두 곡선이 $x = -1$ 에서만 접하고 나머지 점에서는 만나지 않습니다. 따라서 이 경우 $\int_a^x f(t)dt$ 는 미분가능합니다.

- ② $a = 2$ 인 경우 $k = -\frac{e^2}{32}$ 이고 다음이 성립합니다.

$$\int_a^x f(t)dt = \begin{cases} \left| -e^x - \frac{e^2}{32}x(x+2)^2 \right| & (x < -2) \\ \left| e^x - \frac{e^2}{32}x(x+2)^2 \right| & (x \geq -2) \end{cases}$$

마찬가지로 $g(x) = -\frac{e^2}{32}x(x+2)^2$ 의 그래프와 두 곡선 $y = e^x$, $y = e^{-x}$ 를 그리면 다음과 같습니다.



$g(x)$ 가 최고차항의 계수가 음수인 삼차함수이므로 $x < -2$ 에서 $g(x) > 0$ 입니다. 즉 곡선 $y = e^x$ 와 $x < -2$ 에서 만나는데 교점에서의 두 접선의 기울기가 같을 수 없으므로 $x < -2$ 에서 $\int_a^x f(t)dt$ 가 미분가능하지 않은 점이 생기게 됩니다. 따라서 $a = 2$ 인 경우는 모순됩니다.

즉 $a = -1$ 입니다. 한편 $x > -2$ 에서 $\int_{-1}^x f(t)dt = \left| e^x + \frac{1}{e}x(x+2)^2 \right| = e^x + \frac{1}{e}x(x+2)^2$ 이므로 $x > -2$ 에서 $f(x) = e^x + \frac{1}{e}(3x^2 + 8x + 4)$ 입니다. 따라서 $f(a+1) = f(0) = 1 + \frac{4}{e}$ 이고 $p+q = 5$ 입니다.

정답 : 5

고난도 킬러 N제와 새로운 기준을 세우다

수학

1
Grade

'23
Since

Alize

전태원(미적분 백분위 100)

저는 일격필살 N제 시즌1 수1&수2, 미적/ 일격필살 N제 시즌2 수1&수2&미적/ 일격필살 파이널 모의고사를 풀었습니다. 일격필살 팀의 모든 콘텐츠를 풀었다고 할 수 있겠네요. 그 결과 2023 대학 수학 능력 평가에서 미적분 백분위 100을 받을 수 있었습니다. 수학 실력을 키우기 위해서 소위 양치기라고 불리는 문제 푸는 양을 늘리는 것이 중요하다고 생각합니다. 하지만 어떤 문제는 마구잡이로 푸는 것이 아니라 좋은 문제들을 많이 풀어야 합니다. 일격 필살 팀의 문제들을 한 단어로 표현하면 '새롭다'였던 것 같습니다. 다른 콘텐츠를 풀다 보면 기출에서 본 듯한, 기출과 유사한, 그런 문항들이 많았습니다. 또한 무리한 사고 과정을 요구하거나 고등 교육 과정을 벗어난 그런 문제들도 가끔씩 있었습니다. 일격 필살 팀의 문제들은 낯설었습니다. 생소했고 드물었습니다. 수능에는 한 번 나온 문제는 두 번 다시는 나오지 않는다는 것은 모두가 아는 상식입니다. 그런 상식에 걸맞은 참신한 문제들을 풀면서 앞으로의 수능에 나올 새로운 문제들을 예상하고 대비할 수 있었습니다.

값 24,800원



9 791167 026811

ISBN 979-11-6702-681-1

ISBN 979-11-6702-649-1 (시리즈)