

1. 상수 k 에 대하여 다음 조건을 만족시키는 좌표평면의 점 $A(a, b)$ 가 오직 하나 존재한다.

(가) 점 A 는 곡선 $y = \log_2(x+2) + k$ 위의 점이다.

(나) 점 A 를 직선 $y = x$ 에 대하여 대칭이동한 점은 곡선 $y = 4^{x+k} + 2$ 위에 있다.

$a \times b$ 의 값을 구하시오. (단, $a \neq b$) [4점]

(2022년 3월 21번)

1. [출제외도] 지수함수와 로그함수를 이용하여 점의 좌표를 구하는 문제를 해결한다.

점 $A(a, b)$ 은 직선 $y=x$ 에 대하여 대칭이동한 점 B 다 하면 $B(b, a)$ 이다.

조건 (가)에서 점 $A(a, b)$ 가 곡선 $y=\log_2(x+2)+k$ 위의 점이므로

$$b-\log_2(a+2)=k \dots\dots \textcircled{1}$$

조건 (나)에서 점 $B(b, a)$ 가 곡선 $y=4^{x-k}+2$ 위의 점이므로

$$a-4^{b-k}=2 \dots\dots \textcircled{2}$$

①에서

$$b-k=\log_2(a+2), 2^{b-k}=a+2$$

$$a-2^{b-k}=2 \dots\dots \textcircled{3}$$

②, ③을 연립하여 정리하면

$$4^{b-k}+2=2^{b-k}-2$$

$$4^t \times 4^{-k} - 2^{-k} \times 2^t + 4 = 0 \dots\dots \textcircled{4}$$

조건을 만족시키는 점 A 가 오직 하나이므로 방정식 ④을 만족시키는 실수 b 는 오직 하나이고

$2^t = t (t > 0)$ 으로 놓으면 t 에 대한 이차방정식

$$4^t t^2 - 2^{-k} t + 4 = 0 \dots\dots \textcircled{5}$$

은 오직 하나의 양의 실근을 갖는다. t 에 대한 이차

방정식 ⑤의 두 근의 곱은 $\frac{4}{4^t} = 4^{1-t} > 0$ 이므로 t 에

대한 이차방정식 ⑤이 오직 하나의 양의 실근을 가지려면 ⑤의 판별식을 D 라 할 때 $D=0$ 이어야 한다.

$$\begin{aligned} D &= (-2^{-k})^2 - 4 \times 4^t \times 4 \\ &= 4^{-k} - 16 \times 4^t = 0 \end{aligned}$$

위의 방정식의 양변에 4^k 을 곱하여 정리하면

$$2^{2k+4} = 1, k = -1$$

⑤에 대입하여 정리하면

$$\frac{1}{4}t^2 - 2t + 4 = 0, \frac{1}{4}(t-4)^2 = 0$$

$$t = 4$$

즉, $2^b = 4$ 에서 $b = 2$ 이다.

$k = -1, b = 2$ 를 ①에 대입하여 정리하면

$$a = 4^{2+(-1)} + 2 = 6$$

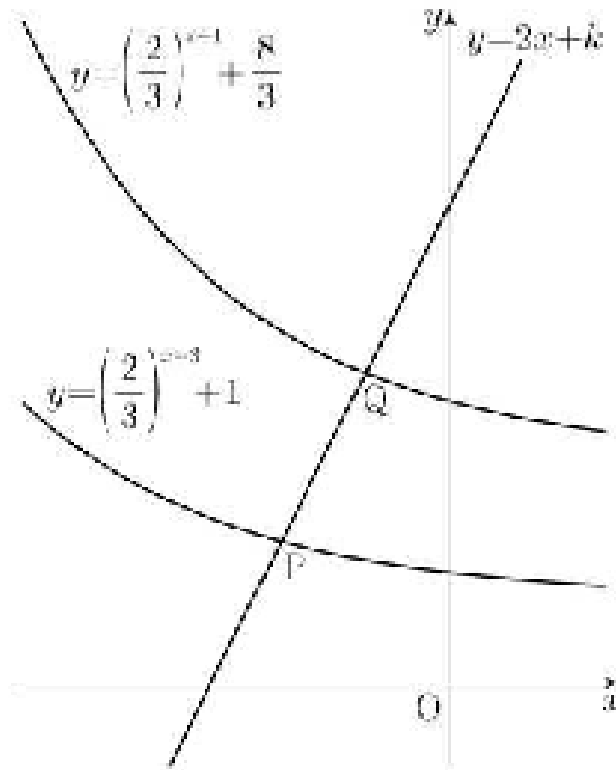
따라서 $a \times b = 6 \times 2 = 12$

7. 직선 $y = 2x + k$ 가 두 함수

$$y = \left(\frac{2}{3}\right)^{x+3} + 1, \quad y = \left(\frac{2}{3}\right)^{x+1} + \frac{8}{3}$$

의 그래프와 만나는 점을 각각 P, Q라 하자. $PQ = \sqrt{5}$ 일 때, 상수 k 의 값은? [4점]

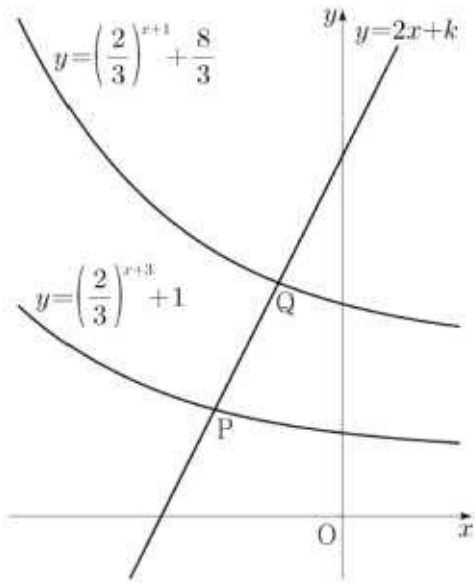
- ① $\frac{31}{6}$ ② $\frac{16}{3}$ ③ $\frac{11}{2}$ ④ $\frac{17}{3}$ ⑤ $\frac{35}{6}$



(2022학년도 수능 9번)

7. 출제의도 : 지수방정식의 해를 구할 수 있는가?

정답풀이 :



두 점 P, Q의 x 좌표를 각각 $p, q (p < q)$ 라 하면
 두 점 P, Q는 직선 $y=2x+k$ 위의 점이므로
 $P(p, 2p+k), Q(q, 2q+k)$
 로 놓을 수 있다.
 이때, $\overline{PQ} = \sqrt{5}$, 즉 $\overline{PQ}^2 = 5$ 이므로
 $(q-p)^2 + (2q-2p)^2 = 5$
 $(q-p)^2 = 1$
 $q-p > 0$ 이므로
 $q-p = 1$

즉, $q=p+1$ 이다.

한편, 점 P는 함수 $y = \left(\frac{2}{3}\right)^{x+3} + 1$ 의 그래프 위의 점이므로

$$\left(\frac{2}{3}\right)^{p+3} + 1 = 2p+k \quad \text{..... ㉠}$$

점 Q는 함수 $y = \left(\frac{2}{3}\right)^{x+1} + \frac{8}{3}$ 의 그래프 위의 점이므로

$$\left(\frac{2}{3}\right)^{p+2} + \frac{8}{3} = 2p+k+2 \quad \text{..... ㉡}$$

㉠, ㉡에서

$$\left(\frac{2}{3}\right)^{p+2} + \frac{8}{3} = \left(\frac{2}{3}\right)^{p+3} + 3$$

$$\left(\frac{2}{3}\right)^{p+2} = 1$$

$$p+2=0, \text{ 즉 } p=-2$$

$p=-2$ 를 ㉠에 대입하면

$$\left(\frac{2}{3}\right)^{-2+3} + 1 = 2 \times (-2) + k$$

$$\text{따라서 } k = \frac{17}{3}$$

정답 ④

9. 그림과 같이 곡선 $y = |\log_2 x|$ 와 직선 $y = x$ 가 있다.

직선 $x = a (a > 1)$ 이 곡선 $y = |\log_2 x|$ 와 만나는 점을 A,

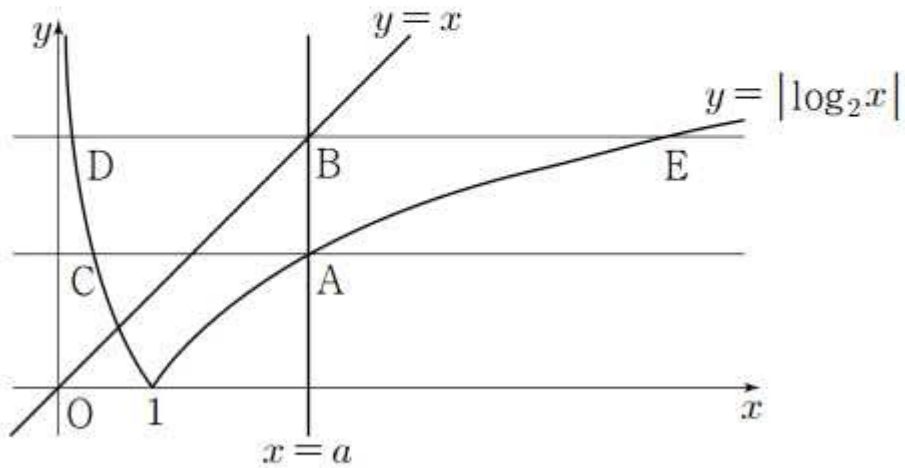
직선 $y = x$ 와 만나는 점을 B라 하자.

점 A를 지나고 x 축에 평행한 직선이 곡선 $y = |\log_2 x|$ 와 만나는

점 중 A가 아닌 점을 C라 하고, 점 B를 지나고 x 축에 평행한

직선이 곡선 $y = |\log_2 x|$ 와 만나는 두 점을 각각 D, E라 하자.

$\overline{DE} = \frac{15}{4}$ 일 때, 선분 CA의 길이는? [4점]



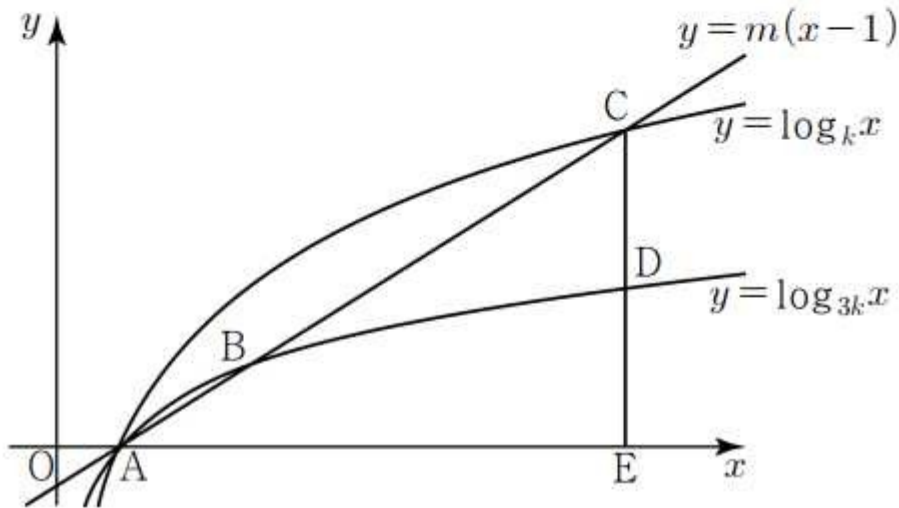
- ① $\frac{9}{8}$ ② $\frac{5}{4}$ ③ $\frac{11}{8}$ ④ $\frac{3}{2}$ ⑤ $\frac{13}{8}$

(2017년 11월 가형 17번)

11. $k > 1$ 인 실수 k 에 대하여 두 곡선 $y = \log_{3k}x$, $y = \log_kx$ 가 만나는 점을 A라 하자. 양수 m 에 대하여 직선 $y = m(x-1)$ 이 두 곡선 $y = \log_{3k}x$, $y = \log_kx$ 와 제1사분면에서 만나는 점을 각각 B, C라 하자. 점 C를 지나고 y 축에 평행한 직선이 곡선 $y = \log_{3k}x$, x 축과 만나는 점을 각각 D, E라 할 때, 세 삼각형 ADB, AED, BDC가 다음 조건을 만족시킨다.

- (가) 삼각형 BDC의 넓이는 삼각형 ADB의 넓이의 3배이다.
- (나) 삼각형 BDC의 넓이는 삼각형 AED의 넓이의 $\frac{3}{4}$ 배이다.

$\frac{k}{m}$ 의 값을 구하시오. [4점]

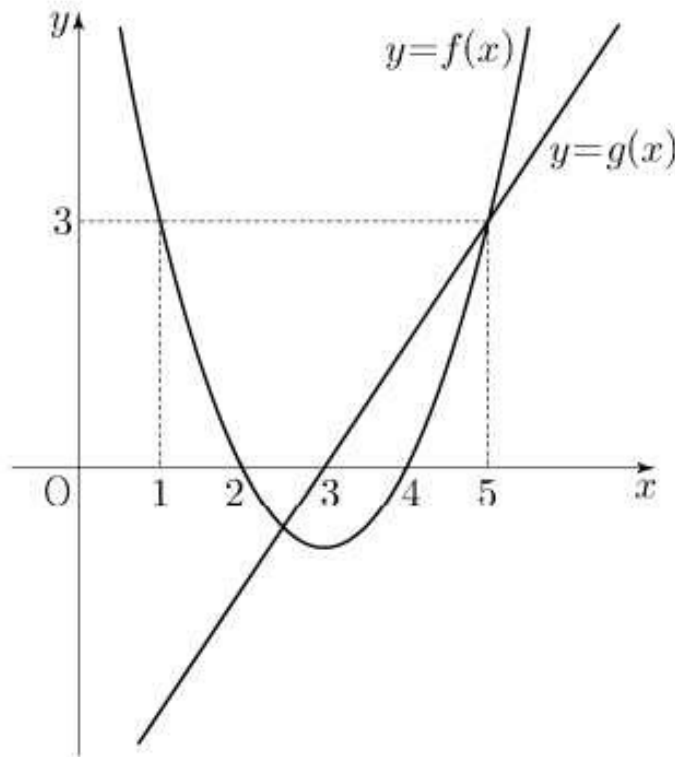


(2020년 7월 가형 27번)

16. 이차함수 $y=f(x)$ 의 그래프와 일차함수 $y=g(x)$ 의 그래프가 그림과 같을 때, 부등식

$$\left(\frac{1}{2}\right)^{f(x)g(x)} \geq \left(\frac{1}{8}\right)^{g(x)}$$

을 만족시키는 모든 자연수 x 의 값의 합은? [4점]



- ① 7 ② 9 ③ 11 ④ 13 ⑤ 15

(2019학년도 수능 가형 14번)